



# Identificando figuras geométricas


1. Observa la imagen y completa el cuadro.



Figuras geométricas	Cantidad (número)
círculos	
triángulos	
cuadrados	
rectángulos	

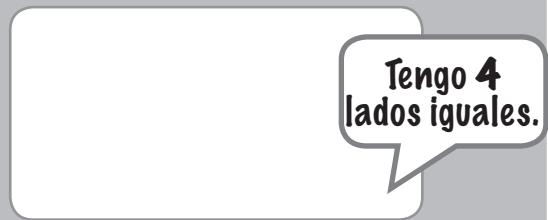
2. Dibuja la figura geométrica que corresponda en cada caso y subraya su nombre.

a)



cuadrado / triángulo

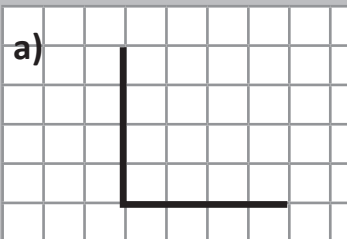
b)



cuadrado / rectángulo

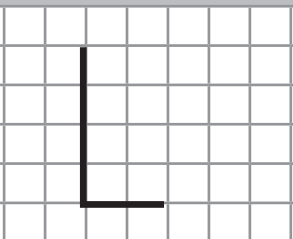
3. Completa la figura indicada en cada caso.

a)



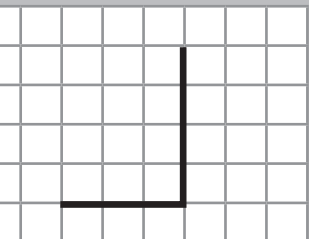
cuadrado

b)



rectángulo

c)



triángulo