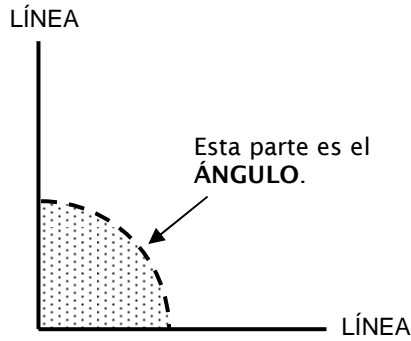


Tema : Ángulos.
 Sub tema : Rectos, Agudos y Obtusos.

Copyright © Editorial Bicentenario. Reproducción prohibida.

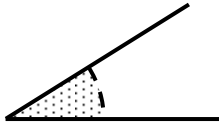
Ahora estudiaremos los **ÁNGULOS**.

Cuándo una línea se cruza con otra forman un **ángulo**.

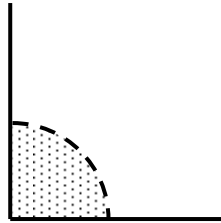


P.1

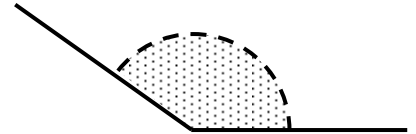
Hay ángulos chicos como éste.



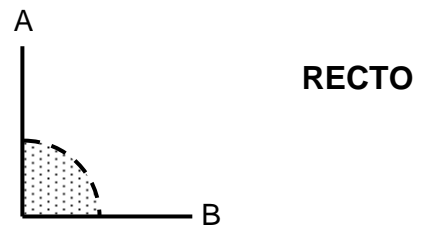
Otros medianos.



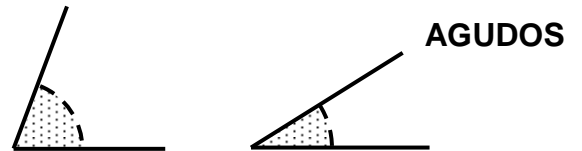
Y otros grandes.



1) Este ángulo se llama **ÁNGULO RECTO**. La línea A baja derecho hacia la línea B **SIN LADEARSE (Perpendicular)**



2) **TODOS** los ángulos que son **MÁS CHICOS** que el ángulo recto se llaman **AGUDOS**.





3) **TODOS** los ángulos que son **MÁS GRANDES** que el ángulo recto se llaman **OBTUSOS**.



Ejemplo:


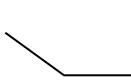




OBTUSOS

En estos ejercicios, indica si el ángulo es RECTO, OBTUSO o AGUDO.

1)  R. _____ 2)  R. _____

3)  R. _____ 4)  R. _____



5)  R. _____ 6)  R. _____

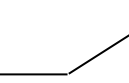
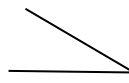
7)  R. _____ 8)  R. _____



Pon el nombre del **ÁNGULO**.



NO importa para que dirección esté el ángulo, el nombre sigue siendo el mismo.

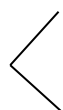

P.2

1)  R. _____ 2)  R. _____

3)  R. _____ 4)  R. _____

5)  R. _____ 6)  R. _____

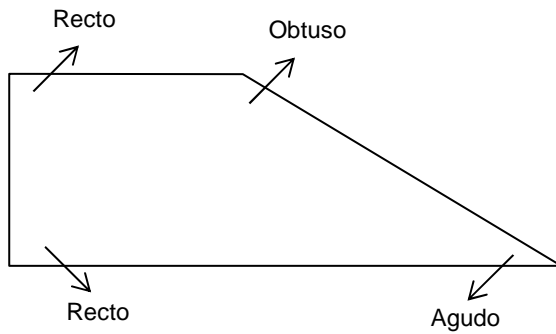
7)  R. _____ 8)  R. _____

9)  R.: _____ 10)  R.: _____

ÁNGULOS QUE ESTÁN DENTRO DE LAS FIGURAS.

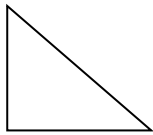
Ejemplo:

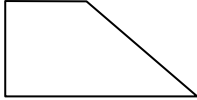
Esta figura tiene 2 ángulos rectos, 1 ángulo obtuso y 1 ángulo agudo.

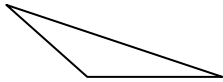



P.3

Ahora contesta, ¿Cuántos ángulos rectos, obtusos o agudos tienen estas figuras?


1)  Rectos : _____
 Obtusos : _____
 Agudos : _____

2)  Rectos : _____
 Obtusos : _____
 Agudos : _____

3)  Rectos : _____
 Obtusos : _____
 Agudos : _____

4)  Rectos : _____
 Obtusos : _____
 Agudos : _____

5)




Rectos : _____
Obtulos : _____
Agudos : _____

6)



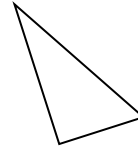
Rectos : _____
Obtulos : _____
Agudos : _____

7)



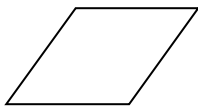
Rectos : _____
Obtulos : _____
Agudos : _____

8)



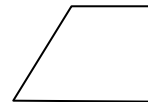
Rectos : _____
Obtulos : _____
Agudos : _____

9)



Rectos : _____
Obtulos : _____
Agudos : _____

10)



Rectos : _____
Obtulos : _____
Agudos : _____